



Atividades Avaliativas

Matemática – 1º ano

1 Observe a imagem.



Ilustrações: Eunice/Conexão

Agora, responda.


QUANTAS CRIANÇAS ESTÃO BRINCANDO? _____

HÁ QUANTAS MENINAS? _____

HÁ QUANTOS MENINOS? _____

HÁ MAIS MENINOS OU MENINAS? _____

2 Observe quais e quantos animais Leonardo tem em seu quintal.



QUANTOS CACHORROS HÁ NO QUINTAL DE LEONARDO? _____

HÁ QUANTAS GALINHAS? _____

HÁ QUANTOS GATOS? _____

HÁ QUANTOS PATOS? _____

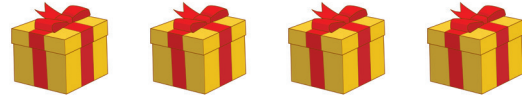
HÁ MAIS GALINHAS OU PATOS? _____





3 Ligue cada número à quantidade correspondente.

Ilustrações: Eunice/Conexão



3

5

4

4 Pinte as barrinhas de acordo com os números.

8

5

3

9

Circule o número maior e pinte de verde o número menor.

5 Complete o quadro com o número, a quantidade e o nome do número que falta.

NÚMERO	QUANTIDADE	NOME DO NÚMERO
2		
4		QUATRO
		SETE
		NOVE



6 Complete as sequências numéricas com os números que faltam.

1		3		5		7		9
	2		4		6		8	
1	2		4	5		7	8	

7 Pinte a figura de acordo com a legenda.



CÍRCULOS




RETÂNGULOS



QUADRADOS





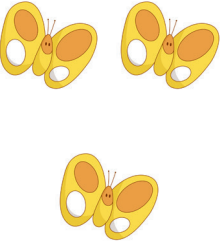






TRIÂNGULOS





8 Observe os desenhos e complete as adições.

Ilustrações: Eunice/Conexão

<p>HAVIA</p> 	<p>CHEGOU</p> 	<p>FIARAM</p> 	$\underline{\quad} + \underline{\quad} = \underline{\quad}$
<p>HAVIA</p> 	<p>CHEGARAM</p> 	<p>FIARAM</p> 	$\underline{\quad} + \underline{\quad} = \underline{\quad}$
<p>HAVIA</p> 	<p>CHEGARAM</p> 	<p>FIARAM</p> 	$\underline{\quad} + \underline{\quad} = \underline{\quad}$



9

Ana tem  e Malu tem 

Quantos doces as duas têm juntas?

Resposta: As duas têm, juntas, _____ doces.

10

Pedro tem  e João ganhou .

Quantas pipas os dois têm ao todo?

Resposta: Os dois têm, ao todo, _____ pipas.