



Atividades Avaliativas

Matemática – 2º ano

1 Adivinhe que número eu sou...

Eu sou um número que fica entre o 5 e o 7.

- a) 8 b) 5 c) 7 d) 6

2 Marque a resposta que corresponde ao número que completa a sequência abaixo.


25 – 26 – – 28

- a) 72 b) 17 c) 27 d) 78
e) nenhuma das alternativas anteriores

3 A mãe de Pedro tem trinta e seis anos. Marque a resposta que mostra a idade de Dona Tereza, a mãe de Pedro.

- a) 306 b) 36 c) 30 d) 63
e) nenhuma das alternativas anteriores

4 Quantos lápis faltam para formar uma dezena?




Karina F./Conexão Editorial

- a) 6 lápis b) 10 lápis c) 5 lápis d) 4 lápis
e) nenhuma das alternativas anteriores





5 Quantas velas preciso riscar para ficar com meia dezena?



- a) 5 velas b) 7 velas c) 2 velas d) 1 vela
e) nenhuma das alternativas anteriores

6 Quem sou eu?

Sou formado por 4 dezenas e 7 unidades.

Eu sou o número:

- a) 74 b) 40 c) 07 d) 47
e) nenhuma das alternativas anteriores

7 Carlos e Mateus jogaram uma partida de futebol no parque. Mateus fez 5 gols e Carlos fez 4. Quantos gols os dois fizeram juntos?

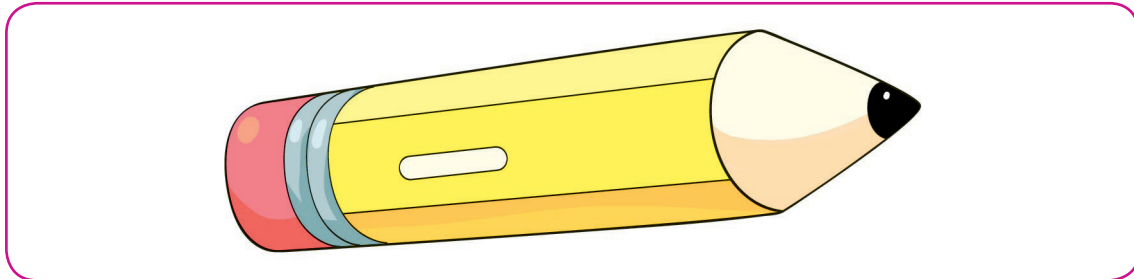
- a) 4 gols b) 5 gols c) 9 gols d) 10 gols
e) nenhuma das alternativas anteriores

8 Carla tinha 9 balas e deu 5 balas para Clara. Com quantas balas Carla ficou?

- a) 9 balas b) 4 balas c) 5 balas d) 14 balas
e) nenhuma das alternativas anteriores



- 9** Quando observamos o formato de um lápis, lembramos da forma geométrica chamada:



- a)** cilindro **b)** esfera **c)** cone **d)** cubo
e) nenhuma das alternativas anteriores

- 10** Observe a sequência numérica. Depois, pinte somente os números pares.

1 – 2 – 3 – 4 – 5 – 6 – 7

Marque a alternativa que representa os números que você pintou.

- a)** 1 – 3 – 5 – 7 **b)** 2 – 4 – 6 **c)** 1 – 2 – 3 **d)** 4 – 5 – 6 – 7
e) nenhuma das alternativas anteriores