




Atividades Avaliativas

Matemática – 3º ano

1 Apesar de os números romanos não serem muito utilizados em nosso dia a dia, podemos encontrá-los nos relógios de pulso e até nos relógios de parede.

→ Observe o relógio de parede abaixo e assinale a alternativa que descreve a hora marcada.



- a) três horas
- b) meio-dia
- c) meio-dia e quinze minutos
- d) meia-noite
- e) nenhuma das alternativas anteriores

2 Adivinhe que número eu sou...

Sou formado por 7 dezenas e 3 unidades. Eu sou o número:

- a) 703
- b) 73
- c) 37
- d) 7 003
- e) nenhuma das alternativas anteriores





3 Na decomposição de certo número, encontrou-se $10 + 20 + 20 + 7$. Qual é a dezena exata mais próxima desse número?

- a) 50
- b) 60
- c) 70
- d) 40
- e) nenhuma das alternativas anteriores

4 Para completar seu álbum de figurinhas, Carlos precisa de uma centena de figurinhas. Sabendo que ele já possui 87 figurinhas, quantas ainda faltam para completar o álbum?

- a) 23 figurinhas
- b) 33 figurinhas
- c) 13 figurinhas
- d) 187 figurinhas
- e) nenhuma das alternativas anteriores

5 Observe a sequência numérica abaixo e marque quais números seriam adequados para completá-la.

$240 - 243 - 246 - 249 - \underline{\quad} - \underline{\quad} - \underline{\quad}$

- a) $250 - 251 - 252$
- b) $252 - 255 - 257$
- c) $252 - 255 - 259$
- d) $252 - 255 - 258$
- e) nenhuma das alternativas anteriores





6 Adivinhe que número eu sou...

Sou formado por três ordens, sendo 9 centenas, 6 dezenas e 3 unidades. Eu sou o número:

- a) 369
- b) 693
- c) 936
- d) 963
- e) nenhuma das alternativas anteriores

7 Observe quanto Mariana ganhou de mesada.



Paula também ganha mesada, mas recebeu a quantidade que está no quadro abaixo.



Quantos reais as duas meninas têm juntas?

- a) R\$ 100,00
- b) R\$ 89,00
- c) R\$ 98,00
- d) R\$ 99,00
- e) R\$ 109,00




8 Júlio tem R\$ 98,00 e foi à loja de brinquedos comprar um carrinho de controle remoto. O brinquedo que Júlio quer comprar custa R\$ 87,00. Quanto Júlio receberá de troco?

- a) R\$ 1,00
- b) R\$ 11,00
- c) R\$ 21,00
- d) R\$ 10,00
- e) nenhuma das alternativas anteriores

9 Ao observarmos uma caixa de sapatos, lembramos do sólido geométrico chamado:


- a) cubo.
- b) prisma.
- c) paralelepípedo.
- d) cilindro.
- e) cone.



Imaginário Studio

10 E a lata de lixo, nos lembra qual sólido geométrico?

- a) cubo
- b) prisma
- c) paralelepípedo
- d) cilindro
- e) cone



Eunice / Conexão