

AVALIAÇÃO – 1º BIMESTRE

ALUNO: _____

DATA: ____/____/____ TURMA: _____


AVALIAÇÃO

1. OBSERVE AS ILUSTRAÇÕES E, EM SEGUIDA, FAÇA O QUE SE PEDE.


- CIRCULE A FIGURA DIFERENTE.



- MARQUE UM X NO LÁPIS MAIS FINO.



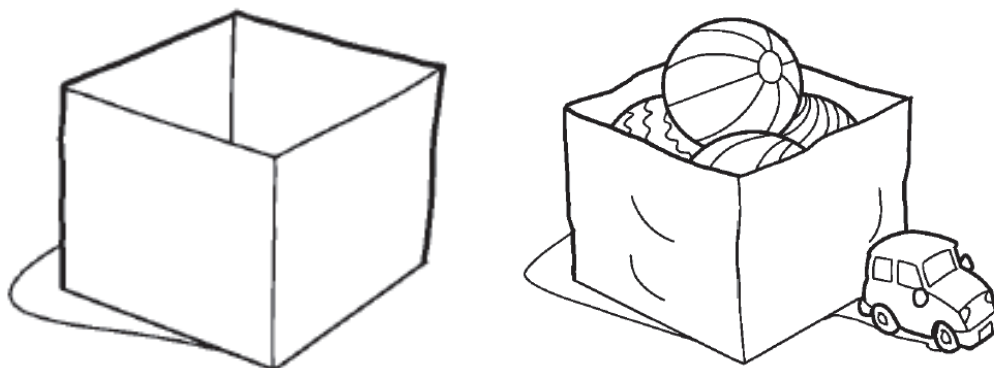
- CIRCULE O IOIÔ QUE TEM O BARBANTE MAIS COMPRIDO.




- MARQUE UM X NA CRIANÇA MAIS BAIXA E CIRCULE AQUELA QUE ESTÁ MAIS PERTO DA BOLA.



2. DESENHE ALGUMAS BOLAS NA CAIXA QUE ESTÁ VAZIA.







3. DESENHE **MENOS OBJETOS** DO QUE OS EXISTENTES NO PRIMEIRO QUADRO.



4. DESENHE SUA MÃO DIREITA. DEPOIS, FAÇA UM DESENHO PARA CADA DEDO DA SUA MÃO.







5. PINTE, USANDO A MESMA COR, OS GRUPOS QUE TÊM A MESMA QUANTIDADE DE ELEMENTOS.







	
	

6. OBSERVE OS NÚMEROS QUE APARECEM NAS ILUSTRAÇÕES. CIRCULE AQUELAS QUE REPRESENTAM CÓDIGO.



7. OBSERVE OS AGRUPAMENTOS, CONTE OS ELEMENTOS E RESPONDA. QUANTOS ELEMENTOS HÁ EM CADA QUADRO?

 <input data-bbox="726 1646 790 1713" type="text"/>	 <input data-bbox="1300 1657 1364 1724" type="text"/>
 <input data-bbox="718 1892 782 1960" type="text"/>	 <input data-bbox="1284 1892 1348 1960" type="text"/>

 <input data-bbox="718 683 790 750" type="text"/>	 <input data-bbox="1340 683 1412 750" type="text"/>
 <input data-bbox="726 952 790 1019" type="text"/>	 <input data-bbox="1340 952 1412 1019" type="text"/>
 <input data-bbox="726 1187 790 1254" type="text"/>	 <input data-bbox="1340 1187 1412 1254" type="text"/>

8. DESENHE A QUANTIDADE DE BOLAS DE ACORDO COM O NÚMERO QUE CADA ETIQUETA INDICA.

8

7

5

6

3

2

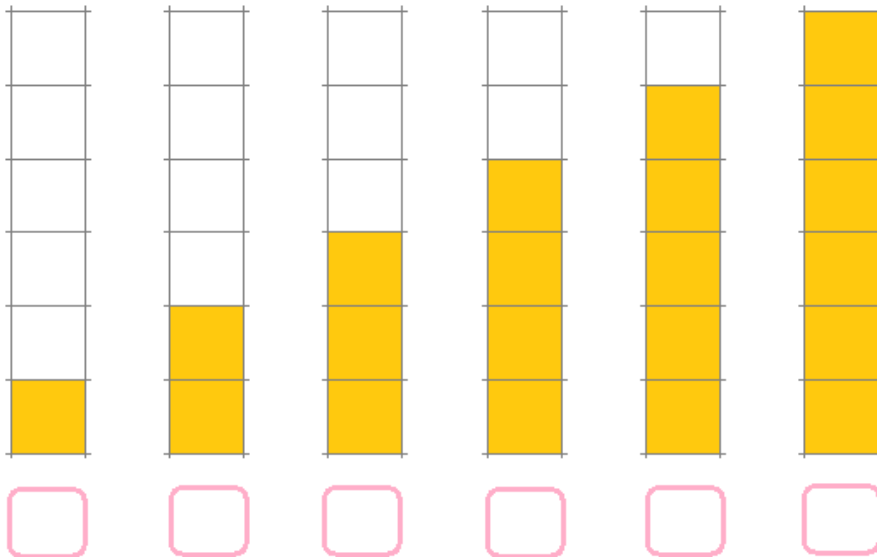
1

4

9

10

9. EM CADA COLUNA, ESCREVA O NÚMERO CORRESPONDENTE À QUANTIDADE DE QUADRINHOS.




10. OBSERVE OS AGRUPAMENTOS, CONTE OS ELEMENTOS E FAÇA O QUE SE PEDE.

- QUANTO FALTA PARA FORMAR 7? DESENHE E RESPONDA.

7


EUNICE/CONEXÃO



Quantos balões você desenhou?

- QUANTO FALTA PARA FORMAR 10? DESENHE E RESPONDA.


10



Quantos balões você desenhou?

- QUANTO FALTA PARA FORMAR 8? DESENHE E RESPONDA.

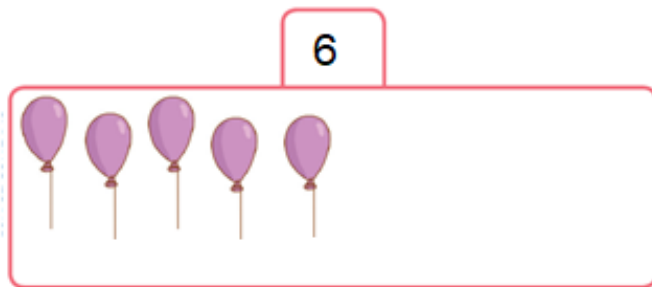
8



Quantos balões você desenhou?

- QUANTO FALTA PARA FORMAR 6? DESENHE E RESPONDA.


6



Quantos balões você
desenhou?

- QUANTO FALTA PARA FORMAR 4? DESENHE E RESPONDA.

4



Quantos balões você
desenhou?

- QUANTO FALTA PARA FORMAR 3? DESENHE E RESPONDA.

3



Quantos balões você
desenhou?

- QUANTO FALTA PARA FORMAR 2? DESENHE E RESPONDA.

2



Quantos balões você desenhou?

- QUANTO FALTA PARA FORMAR 9? DESENHE E RESPONDA.

9



Quantos balões você desenhou?

- QUANTO FALTA PARA FORMAR 5? DESENHE E RESPONDA.

5



Quantos balões você desenhou?

11. PRESTE ATENÇÃO AOS NÚMEROS QUE O PROFESSOR VAI DITAR. ESCREVA UM NÚMERO EM CADA CÍRCULO.



12. OBSERVE OS NÚMEROS DOS QUADROS. ESCREVA ESSES NÚMEROS EM ORDEM CRESCENTE, OU SEJA, DO MENOR PARA O MAIOR.

7	9	1	4	6

13. CIRCULE O NÚMERO MAIOR EM CADA QUADRO.

3 6 9	7 2 5	10 6 5	8 6 4	9 1 2
-------------	-------------	--------------	-------------	-------------

14. COMPLETE AS ADIÇÕES.

$7 + 2 = \underline{\quad}$

$8 + 2 = \underline{\quad}$

$6 + 1 = \underline{\quad}$

$5 + 5 = \underline{\quad}$

$4 + 3 = \underline{\quad}$

$9 + 1 = \underline{\quad}$

$7 + \underline{\quad} = 9$

$4 + \underline{\quad} = 7$

$2 + \underline{\quad} = 8$

$4 + \underline{\quad} = 8$

15. JOANA TINHA 4 LIVROS DE LITERATURA. NO SEU ANIVERSÁRIO, ELA GANHOU MAIS 5 LIVROS. COM QUANTOS LIVROS JOANA FICOU?

$\underline{\quad} + \underline{\quad} = \underline{\quad}$

RESPOSTA: JOANA FICOU $\underline{\quad}$ LIVROS.