

AVALIAÇÃO – 1º BIMESTRE


ALUNO: _____

DATA: ____/____/____ TURMA: _____

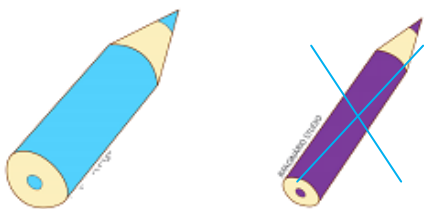
AVALIAÇÃO

1. OBSERVE AS ILUSTRAÇÕES E, EM SEGUIDA, FAÇA O QUE SE PEDE.

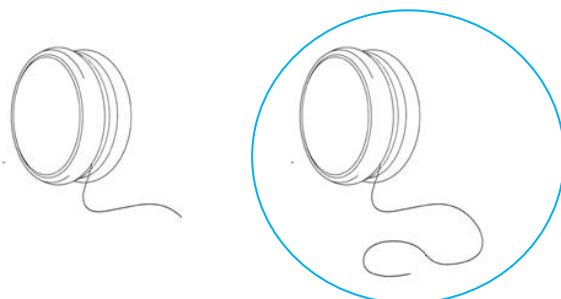
- CIRCULE A FIGURA DIFERENTE.




- MARQUE UM X NO LÁPIS MAIS FINO.



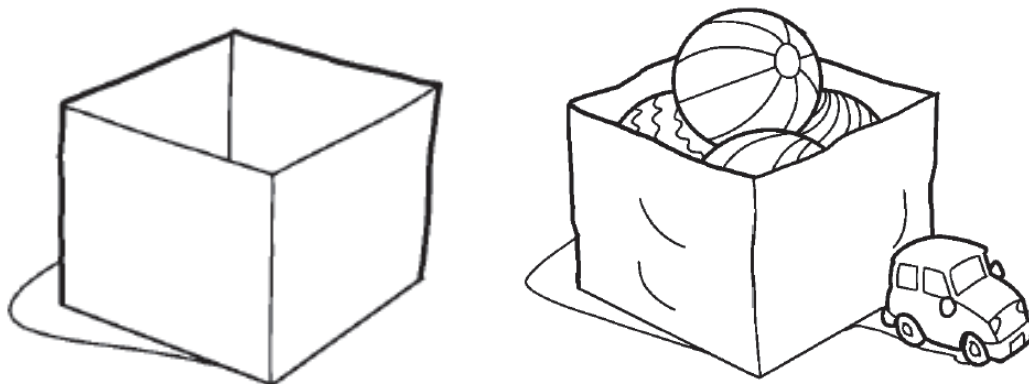
- CIRCULE O IOIÔ QUE TEM O BARBANTE MAIS COMPRIDO.




- MARQUE UM X NA CRIANÇA MAIS BAIXA E CIRCULE AQUELA QUE ESTÁ MAIS PERTO DA BOLA.



2. DESENHE ALGUMAS BOLAS NA CAIXA QUE ESTÁ VAZIA. O ALUNO DEVE DESENHAR NA PRIMEIRA CAIXA.




3. DESENHE **MENOS OBJETOS** DO QUE OS EXISTENTES NO PRIMEIRO QUADRO.



RESPOSTA PESSOAL. ESPERA-SE QUE O ALUNO DESENHE DE 4 BALÕES A 0 BALÃO.

4. DESENHE SUA MÃO DIREITA. DEPOIS, FAÇA UM DESENHO PARA CADA DEDO DA SUA MÃO.







5. PINTE, USANDO A MESMA COR, OS GRUPOS QUE TÊM A MESMA QUANTIDADE DE ELEMENTOS.



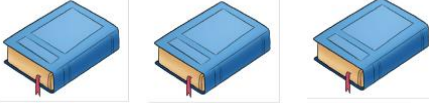



 <p>O ALUNO DEVE PINTAR ESTE GRUPO (VERIFICAR SE ELE USA A MESMA COR).</p>	 <p>O ALUNO DEVE PINTAR ESTE GRUPO (VERIFICAR SE ELE USA A MESMA COR).</p>
	

6. OBSERVE OS NÚMEROS QUE APARECEM NAS ILUSTRAÇÕES. CIRCULE AQUELAS QUE REPRESENTAM CÓDIGO.




7. OBSERVE OS AGRUPAMENTOS, CONTE OS ELEMENTOS E RESPONDA. QUANTOS ELEMENTOS HÁ EM CADA QUADRO?

 <div style="border: 1px solid black; width: 20px; height: 20px; display: inline-block; text-align: center; line-height: 20px;">8</div>	 <div style="border: 1px solid black; width: 20px; height: 20px; display: inline-block; text-align: center; line-height: 20px;">9</div>
 <div style="border: 1px solid black; width: 20px; height: 20px; display: inline-block; text-align: center; line-height: 20px;">1</div>	 <div style="border: 1px solid black; width: 20px; height: 20px; display: inline-block; text-align: center; line-height: 20px;">6</div>


 <p>10</p>	 <p>4</p>
 <p>3</p>	 <p>7</p>
 <p>5</p>	 <p>2</p>

8. DESENHE A QUANTIDADE DE BOLAS DE ACORDO COM O NÚMERO QUE CADA ETIQUETA INDICA.


8




7









5

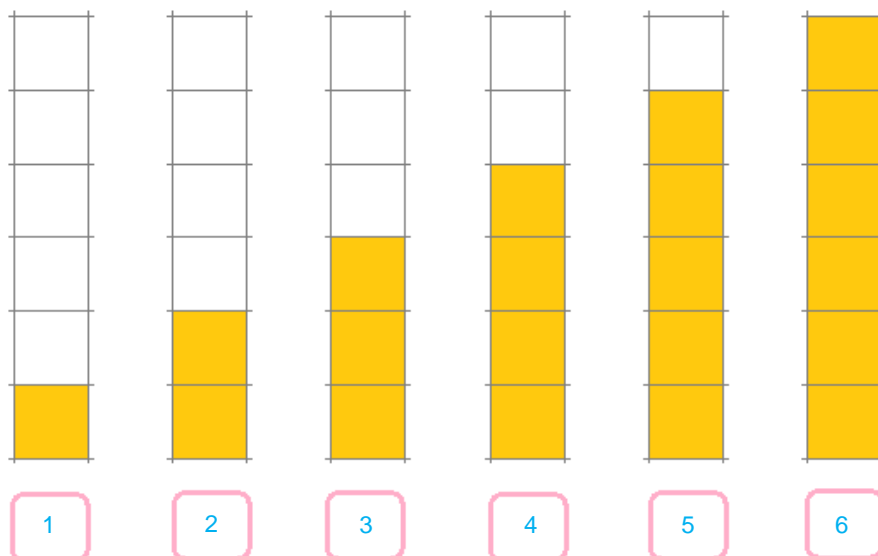


6



3		2	
1		4	
9		10	

9. EM CADA COLUNA, ESCREVA O NÚMERO CORRESPONDENTE À QUANTIDADE DE QUADRINHOS.



10. OBSERVE OS AGRUPAMENTOS, CONTE OS ELEMENTOS E FAÇA O QUE SE PEDE.

- QUANTO FALTA PARA FORMAR 7? DESENHE E RESPONDA.

7

EJUNICE/CONEXÃO

Quantos balões você desenhou?

O ALUNO DEVE DESENHAR TRÊS BALÕES E RESPONDER 3.

- QUANTO FALTA PARA FORMAR 10? DESENHE E RESPONDA.

10

Quantos balões você desenhou?

O ALUNO DEVE DESENHAR DOIS BALÕES E RESPONDER 2.

- QUANTO FALTA PARA FORMAR 8? DESENHE E RESPONDA.

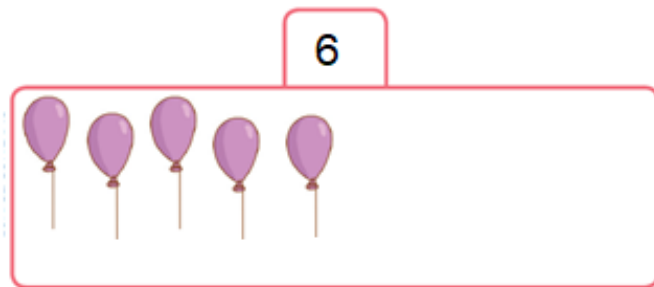
8

Quantos balões você desenhou?

O ALUNO DEVE DESENHAR QUATRO BALÕES E RESPONDER 4.

- QUANTO FALTA PARA FORMAR 6? DESENHE E RESPONDA.

6




Quantos balões você desenhou?

O ALUNO DEVE DESENHAR UM BALÃO E RESPONDER 1.

- QUANTO FALTA PARA FORMAR 4? DESENHE E RESPONDA.

4



Quantos balões você desenhou?

O ALUNO DEVE DESENHAR TRÊS BALÕES E RESPONDER 3.

- QUANTO FALTA PARA FORMAR 3? DESENHE E RESPONDA.

3



Quantos balões você desenhou?

O ALUNO DEVE DESENHAR UM BALÃO E RESPONDER 1.

- QUANTO FALTA PARA FORMAR 2? DESENHE E RESPONDA.

2



Quantos balões você desenhou?

O ALUNO DEVE DESENHAR UM BALÃO E RESPONDER 1.

- QUANTO FALTA PARA FORMAR 9? DESENHE E RESPONDA.

9



Quantos balões você desenhou?

O ALUNO DEVE DESENHAR CINCO BALÕES E RESPONDER 5.

- QUANTO FALTA PARA FORMAR 5? DESENHE E RESPONDA.

5



Quantos balões você desenhou?

O ALUNO DEVE DESENHAR DOIS BALÕES E RESPONDER 2.

11. PRESTE ATENÇÃO AOS NÚMEROS QUE O PROFESSOR VAI DITAR. ESCREVA UM NÚMERO EM CADA CÍRCULO.



NÚMEROS PARA DITAR: 9 (NOVE), 2 (DOIS), 4 (QUATRO), 1 (UM), 8 (OITO).

12. OBSERVE OS NÚMEROS DOS QUADROS. ESCREVA ESSES NÚMEROS EM ORDEM CRESCENTE, OU SEJA, DO MENOR PARA O MAIOR.

7	9	1	4	6

O ALUNO DEVE ESCREVER OS NÚMEROS NA SEGUINTE ORDEM: 1, 4, 6, 7 E 9.

13. CIRCULE O NÚMERO MAIOR EM CADA QUADRO.

3 6 9	7 2 5	10 6 5	8 6 4	9 1 2
-------------	-------------	--------------	-------------	-------------

14. COMPLETE AS ADIÇÕES.

$7 + 2 = \underline{9}$ $8 + 2 = \underline{10}$

$6 + 1 = \underline{7}$ $5 + 5 = \underline{10}$

$4 + 3 = \underline{7}$ $9 + 1 = \underline{10}$

$7 + \underline{2} = 9$ $4 + \underline{3} = 7$

$2 + \underline{6} = 8$ $4 + \underline{4} = 8$

15. JOANA TINHA 4 LIVROS DE LITERATURA. NO SEU ANIVERSÁRIO, ELA GANHOU MAIS 5 LIVROS. COM QUANTOS LIVROS JOANA FICOU?

$\underline{4} + \underline{5} = \underline{9}$

RESPOSTA: JOANA FICOU 9 LIVROS.